

ATIVIDADE DOMICILIAR
ACOMPANHAMENTO DE MATEMÁTICA

DATA: 04/05/2020 PROFª LURDINHA 3º ANO

1) Se uma dúzia é doze. Quantos são cinco dúzias?

- a. () 50
- b. () 55
- c. () 60
- d. () 70

2) Uma centena é 100 e uma milhar é:

- a. () 1010
- b. () 1110
- c. () 1000
- d. () 110

3) O sucessor de 1009 é:

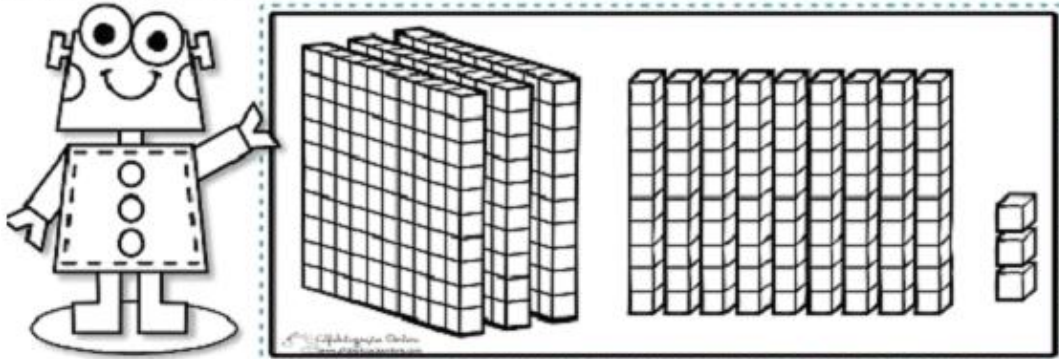
- a. () 1010
- b. () 1110
- c. () 1000
- d. () 1999

ATIVIDADE DOMICILIAR

ACOMPANHAMENTO DE MATEMÁTICA

DATA 05/05/ 2020 PROFª LURDINHA 3º ANO

4 - Observe o material dourado e marque o número representado.



() 933

() 393

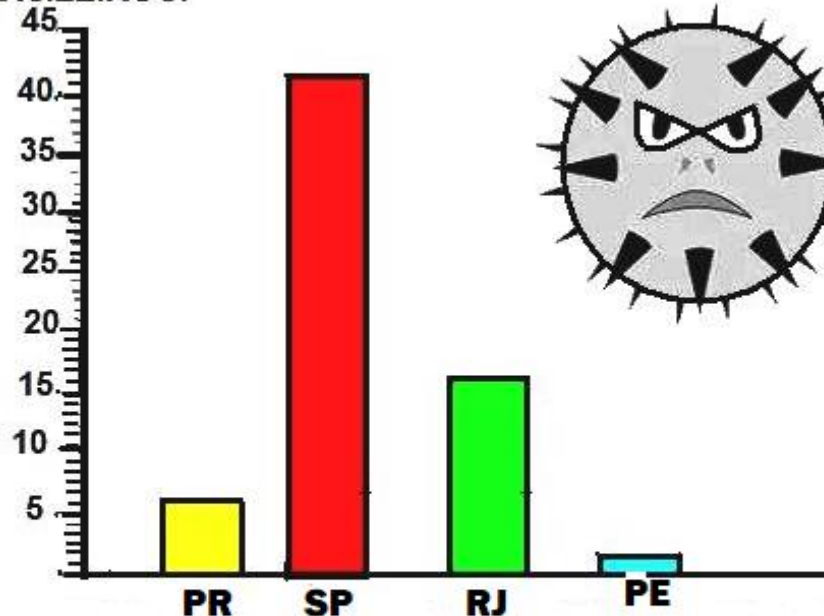
() 3003

() 303

5)

CORONAVÍRUS

ANALISE O GRÁFICO ABAIXO
NÚMERO DE CASOS DE CORONAVÍRUS NOS ESTADOS
BRASILEIROS:



- PARANÁ SÃOCASOS
 - RIO DE JANEIRO SÃO CASOS.
 - SÃO PAULO SÃO CASOS.
 - PERNAMBUCO SÃO CASOS.
- E A SOMA DE TODOS OS CASOS?

_____ + _____ + _____ + _____ =

ATIVIDADE DOMICILIAR

ACOMPANHAMENTO DE MATEMÁTICA

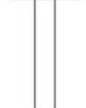

DATA: 07/05/2020

PROFª LURDINHA



3º ANO

1)



C	D	U
3	4	7
5	2	1



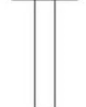

C	D	U
6	1	4
2	6	5





C	D	U
4	2	8
3	1	1





C	D	U
9	3	6
7	2	4



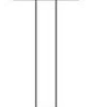

C	D	U
7	8	9
2	6	7





C	D	U
5	4	6
2	2	4





C	D	U
5	3	6
2	7	5



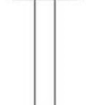

C	D	U
3	4	7
4	2	6





C	D	U
7	1	2
2	5	9



C	D	U
6	0	9
3	7	5



C	D	U
9	8	8
8	6	9



C	D	U
9	1	0
7	0	5

